


# 7 problèmes par semaine

## Semaine 4

**25**

10 droites  
sont tracées.

Nombre de points  
d'intersection au plus ?




**22**



Nombre de triangles ?

**26**



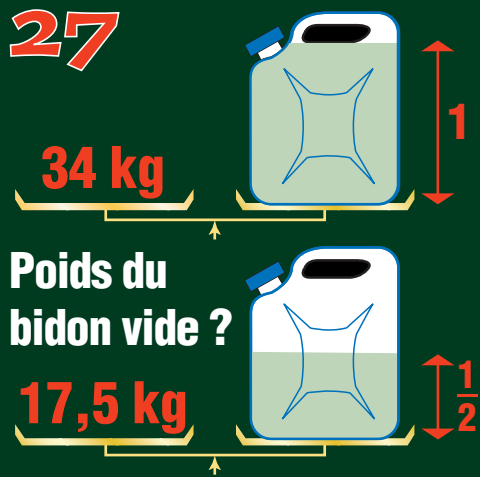
Quelle multiplication  
de 3 nombres  
pour obtenir 1001 ?

**23**

1  
11  
21  
1211  
111221  
312211  
13112221

Ligne suivante ?

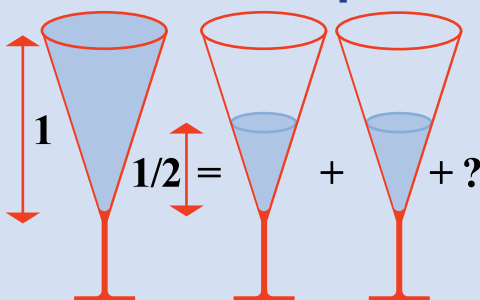
**27**



Poids du  
bidon vide ?


**24**

Combien  
un verre plein vaut-il  
de verres à moitié pleins ?



**28**

Ces  
quatre  
dés  
sont  
identiques.



Quelle est la couleur  
sous le dernier cube ?