

7 problèmes par semaine

Semaine 5

1

Dans ce
cadre, il y a

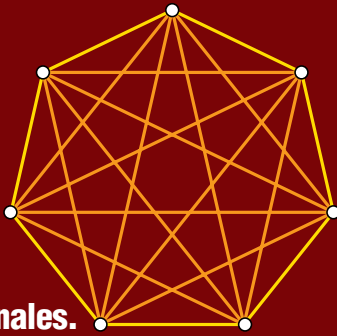
.....

voyelles.

(écrire le nombre
en lettres)


29

Un
polygone
de
7 côtés
a
14 diagonales.



Nombre de diagonales d'un
polygone de 100 côtés ?

2



Nombre de triangles ?

30

8 poules
ont
pondu



8 œufs en 8 jours.

Nombre d'œufs pondus
par 4 poules en 4 jours ?

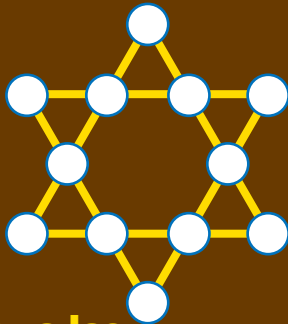
3

La somme de nos
deux chiffres est 5
et leur produit 6.

Qui sommes-nous ?

31

Placer
les
nombres
de 1 à 12
de sorte que les
6 sommes de nombres
"alignés" soient égales.



4

C'est l'anniversaire
de Mamie qui a
2 petits-fils
de 34 et 36 ans.
Quand elle aura 94 ans
la somme des âges
de ses petits-fils
fera aussi 94.
Quel âge a-t-elle ?