


# 7 problèmes par semaine

## Semaine 6

5



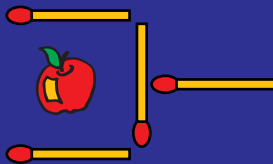
Somme des chiffres : 11

Somme des chiffres : 5

Multiple de 40

Multiple de 35

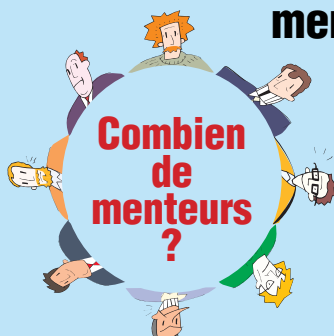
6 Déplacer  
2 allumettes



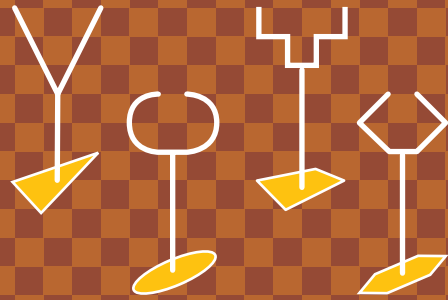
pour que la pomme  
soit hors de la pelle.

7

Chacun dit :  
"Mon voisin de droite  
ment."



8 Dans quelle coupe  
Jacqueline aura  
le plus de champagne ?



9



Planter 10 arbres  
en formant  
5 alignements  
de 4 arbres.

10 Arnaud  
tout habillé, pèse  
41 kg. Tout nu il  
pèse 37 kg de plus  
que ces habits.  
Combien pèse  
Arnaud ?

11

Quelle est la somme  
de tous les chiffres  
utilisés pour écrire  
tous les nombres de  
1 à 1000 ?